



نموذج 1 امتحان مجمع متعدد التخصصات
للفصل الخامس الابتدائي
الفصل الدراسي الأول
الزمن: ساعتان



الورقة الامتحانية تحتوي على ٣٠ سؤال في المواد الدراسية الاساسية من نوعية اختيار من متعدد.

ضع خط تحت الاجابة الصحيحة من البدائل الموجودة في كل سؤال.

أولاً: اللغة العربية:

من قصة مغامرات في اعماق البحار :-

١. يلبس عامل اللحم قفازا في { يده - قدمه - رأسه - وسطه }

من موضوع حب الوطن

"يهوى أمير مادة الدراسات الاجتماعية، حيث يتعرف تاريخ بلاده ويستخلص العبر من سير العظماء ويتعلم الوفاء والعطاء والتضحية والتعاون مع الآخرين".

٢. معنى " يستخلص "
 ٣. كلمة (مادة)
 ٤. مفرد (العبر)
 ٥. إعراب كلمة (أمير) ...
 ٦. تاريخ عظيم
 من نص (مصر أنشودة الدنيا)

شدي الضياء من الظلام ونوري كل الدروب


٧. مفرد (الدروب)
 ٨. مضاد (الضياء)
 ٩. يدعو الشاعر مصر في البيت السابق إلى ... { المعرفة - الجهل - الإهمال - التخلف }
 ١٠. (شدي) فعل
 { الدار - الدرة - الدير - الدرب }
 { الظلام - الضلال - الضياع - الونام }
 { أمر - مضارع - ماضى - اسم }

ثانياً: اللغة الانجليزية

- 1 - What did you ?
 a) bought b) buying c) buys d) buy
- 2 - She cleans the
 a) tent b) story c) jokes d) cards
- 3 - I'm to ride the bus.
 a) go b) going c) goes d) went
- 4 - That's okay It's my
 a) great b) treat c) threat d) tree
- 5- It's timebreakfast.
 a) in b) to c) for d) on



نموذج 1 امتحان مجمع متعدد التخصصات
للفصل الخامس الابتدائي
الفصل الدراسي الأول
الزمن: ساعتان



ثالثا: الدراسات الاجتماعية

- 1- يعد من ارض وسائل النقل لكنه بطيء [النقل المائي - النقل الجوي - مترو الانفاق - النقل البري]
- 2- عرف عصره بعصر الاضطهاد الاكبر او عصر الشهداء
- 3- تعتمد الزراعة في الواحات بمصر علي [الامطار - المياه الجوفية - نهر النيل - البحيرات]
- 4- أحد مشروعات التنمية الزراعية في مصر والتي تستمد مياهها من فرع دمياط [توشكي - ترعة السلام - شرق العوينات - الفرافرة]



رابعا: الرياضيات

- (1) $25 \div 0,5 = \dots\dots\dots$
- (1) 50
- (2) $\frac{1}{4} < \dots\dots\dots$
- (1) $\frac{1}{6}$
- (ب) $\frac{1}{3}$
- (ج) $\frac{1}{6}$
- (د) 1
- (3) إذا كان $\{2, 3, 4\} \in S$ فإن $S = \dots\dots\dots$
- (1) 2
- (ب) 3
- (ج) 4
- (د) 5
- (4) الوتر الذي يمر بمركز الدائرة يسمى
- (1) ارتفاع
- (ب) قطر
- (ج) نصف قطر
- (د) ضلع
- (5) عدد ارتفاعات المثلث المنفرج الزاوية =
- (1) 1
- (ب) 2
- (ج) 3
- (د) صفر
- (6) $S - ص = \dots\dots\dots$
- (1) صفر
- (ب) ش
- (ج) $S - ص$
- (د) S
- (7) صندوق به 20 كرة ، منها 5كرات زرقاء ، و الباقي أحمر فإذا سحبت كرة عشوانيا ، فإن احتمال أن يكون لونها احمر =
- (1) $0,25$
- (ب) $0,75$
- (ج) $0,5$
- (د) $0,4$



خامسا: العلوم


- 1- يتكون الملف في المغناطيس الكهربى من سلك معزول مصنوع من
- أ- النحاس
- ب- الحديد
- ج- الألومنيوم
- د- الكربون
- 2- يعمل المنشور الثلاثي على تحليل ضوء الشمس إلى ألوان .
- أ- 4
- ب- 5
- ج- 6
- د- 7
- 3- يمكن فصل البن المطحون عن الماء ب.....
- أ- التبخير
- ب- الترشيح
- ج- الجذب
- د- قمع الفصل
- 4- من أمثلة الكائنات المحللة
- أ- الفطريات
- ب- الأرنب
- ج- النبات
- د- الأسد



مع تمنيات موقع ذاكرولى التعليمى لكل الطلاب بالنجاح والتوفيق



نموذج 2 امتحان مجمع متعدد التخصصات
للفصل الخامس الابتدائي
الفصل الدراسي الأول
الزمن: ساعتان



أولاً: اللغة العربية

القراءة متعددة الموضوعات من درس (الكهرباء في حياتنا)
(جلس التلاميذ أمام أجهزة الحاسوب يشاهدون بعض الصور وفي أثناء اندماجهم في المشاهدة انقطع التيار الكهربائي فانتهاز المعلم هذه الفرصة)

1. معنى انتهز
2. إعراب التلاميذ
3. جلس فعل
4. التلاميذ يشاهدون بعض
5. يلبس عامل اللحم قفازاً في يده

- (استقبل - اغتم - استلم - أهمل)
(مبتدأ - فاعل - خبر - مضاف إليه)
(أمر - مضارع - ماضى - معتل)
(الندوات - البرامج - الصور - الأفلام)
(يحميه - يضره - يتجمل به - يضرب به)

من نص (مصر أنشودة الدنيا) قال الشاعر
يامصر يا أنشودة الدنيا وأغنية الشعوب
اختر الإجابة الصحيحة مما بين القوسين

يا كعبة الأحرار رن هتاف نصرك في القلوب

6. معني هتاف.....(صوت)
7. جمع أغنية
8. مفرد الشعوب
9. يا مصر أسلوب
(منخفض - عال - مزعج - نحيف)
(مغاني - أغاني - غناء - ليس مما سبق)
(المتشعب - الشعب - العشبة)
(أمر - نهى - نداء - استفهام)

ثانياً: اللغة الإنجليزية

1 - She helps her mother feed the

- a)bed b)table c)laundry d)pets

2 - Wetickets.

- a) drank b) went c)bought d) chopped

3 -She's.....to send an e -mail .

- a) running b) going c) visiting d) doing

4 - I'm eating

- a) milk b) orange juice c) lemonade d) fried rice

5-It's seven

- a) o'clock b)time c) clock d)watch



نموذج 2 امتحان مجمع متعدد التخصصات
للفصل الخامس الابتدائي
الفصل الدراسي الأول
الزمن: ساعتان



ثالثا: الدراسات الاجتماعية

- أقامه الرومان للاحتفال بالاعياد الدينية واعياد الامبراطور
- لا يتوافر في مصر غابات طبيعية بسبب ندرة [الانهار - الامطار - المياه الجوفية -- البحيرات]
- من اهم مراكز صناعة الغزل والنسيج بمصر [اسيوط - مطروح - المحلة الكبرى - المنيا]
- من مصادر الطاقة المتجددة [الرياح - الفحم - البترول - الغاز الطبيعي]

رابعا: الرياضيات

- إذا كان $\{س، ٥\} = \{٦، ٥، ٦\}$ فإن س =
(أ) ٥ (ب) ٦ (ج) ٧ (د) ٨
- $٦٧٨ \div ١٠٠ = ٦٧,٨ \div \dots$
(أ) ١٠ (ب) ١٠٠ (ج) ١٠٠٠ (د) ١٠٠٠٠
- $٥٦,٦٣ \approx \dots$ لأقرب جزء من عشرة
(أ) ٥٦,٦ (ب) ٥٦,٧ (ج) ٥٦,٤ (د) ٥٦,٣
- $٤٥٦,٧ = \dots \times ٤,٥٦٧$
(أ) ١ (ب) ١٠ (ج) ١٠٠ (د) ١٠٠٠
- $\{٦,٨\} \cup \{١,٦\} = \dots$
(أ) $\{٦,٨\}$ (ب) $\{١,٦,٨\}$ (ج) $\{١,٨\}$ (د) $\{٦\}$
- احتمال الحدث المستحيل =
(أ) $\frac{1}{2}$ (ب) $\frac{1}{3}$ (ج) صفر (د) ١
- وتر الدائرة المار بمركز الدائرة يسمى في الدائرة
(أ) قطر (ب) نصف قطر (ج) يوازي (د) عمود

خامسا: العلوم

- عند خلط الضوء الأحمر مع الضوء الأزرق فإنه يعطي ضوء
أ- أصفر ب- قرمزي ج- أزرق فاتح د- أخضر
- تحتوي البوصلة على مغناطيس حر الحركة.
أ- كبير وثقيل ب- صغير وخفيف ج- متوسط وثقيل د- كبير وخفيف
- المذيب في مخلوط الشيكولاتة واللبن هو
أ- الشيكولاتة ب- اللبن ج- الماء د- السكر
- من الكائنات المنقرضة بسبب تغير الظروف الطبيعية بالبيئة
أ- الأسود ب- الحشرات ج- الفران د- الديناصورات

مع تمنيات موقع ذاكرولى التعليمي لكل الطلاب بالنجاح والتوفيق



نموذج 3 امتحان مجمع متعدد التخصصات
للف الخامس الابتدائي
الفصل الدراسي الأول
الزمن: ساعتان



لغة عربية

القراءة :- من موضوع حب الوطن اقرأ ثم أجب :-

"يهوى أمير مادة الدراسات الاجتماعية، حيث يتعرف تاريخ بلاده ويستخلص العبر من سير العظماء".
أكمل ما يأتي :-

1. مرادف (يهوى)
 2. مفرد (العبر)
 3. كلمة (بلاد) نوع الجمع
 4. كلمة أمير تعرب
- من نص (مصر أنشود الدنيا)

- (يحب - يكره - يسعد - ليس مما سبق)
(العبرة - البعير - العابر - المعبر)
(تكسير - مذكر سالم - مؤنث سالم - ليس مما سبق)
(فاعل - مفعول به - مضاف إليه - مبتدأ)

يامصر ياأنشودة الدنيا وأغنية الشعوب
ياكعبة الأحرار رن هتاف نصرك في القلوب


5. معنى (هتاف) صوت
 6. مفرد (الأحرار)
 7. ياأنشودة الدنيا أسلوب
 8. إعراب كلمة هتاف
 9. كلمة القلوب
 10. يتحدث الشاعر في الأبيات عن
- { منخفض - عال - منقطع - نحيف }
{ الحارة - الحرير - الحر - المحار }
{ استفهام - نداء - نهى - تعجب }
{ فاعل - مفعول به - خبر - مبتدأ }
{ اسم - فعل - حرف - ظرف }
{ الجنة - مصر - الأغنية - ليس مما سبق }

ثانيا: اللغة الانجليزية

- 1- We're having beans eggs .
a) and b)to c)from d)of
- 2 – We watch the sunrise in the
a) morning b) evening c) afternoon d)sunset
- 3- She helps her mother do the
a) bed b)table c)laundry d)pets
- 4- What are you?
a) ate b)eating c)eat d) is eating
- 5- They're going toa film.
a) ride b)visit c)see d) help



نموذج 3 امتحان مجمع متعدد التخصصات
للفصل الخامس الابتدائي
الفصل الدراسي الأول
الزمن: ساعتان



ثالثا: دراسات اجتماعية

اختر الاجابة الصحيحة من بين الأقواس :-

- ١- أهم مناطق إنتاج الغاز الطبيعي في مصر
(جبل المغارة - الواحات البحرية - جبل علبة - أبو ماضي)
- ٢- يعد أكثر الموانئ المصرية أهمية علي البحر المتوسط
(سفاجا - الغردقة - السويس - الاسكندرية)
- ٣- أول من أنشأ مناحل لتصدير العسل للصين الملك
(أكتافيوس - بطلميوس الأول - بطلميوس الثالث - أنطونيوس)
- ٤- أول من بشر بالمسيحية في مصر القديس
(باخوم - أنطونيوس - بشوي - مرقس)



رابعا: الرياضيات

(١) {٠} ∅

(١) ∩ (ب) ∉ (ج) ∪ (د) ∩

(٢) $123,45 \div 1000 = \dots\dots\dots$
(١) 124,45 (ب) 1,2345 (ج) 0,12345 (د) 123,45

(٣) $1,23 \times 45 = \dots\dots\dots \times 4,5$
(١) 12,3 (ب) 1,23 (ج) 123 (د) 0,123



(٤) الجزء المظلل في الشكل المقابل يمثل

(١) س - ص (ب) س ∪ ص (ج) س - ص (د) س ∩ ص

(٥) احتمال الحدث المؤكد =
(١) $\frac{1}{2}$ (ب) $\frac{1}{3}$ (ج) صفر (د) ١

(٦) القطعة المستقيمة التي تصل بين مركز الدائرة وأي نقطة على الدائرة تسمى
(١) قطر (ب) نصف قطر (ج) عمود (د) وتر

(٧) عدد ارتفاعات المثلث القائم الزاوية =
(١) ١ (ب) ٢ (ج) ٣ (د) صفر



خامسا: العلوم

- ١- من المواد غير المغناطيسية.....
أ- النحاس ب- الحديد ج- الكوبالت د- النيكل
- ٢- يعمل المنشور الثلاثي على تحليل ضوء الشمس إلى ألوان .
أ- ٤ ب- ٥ ج- ٦ د- ٧
- ٣- يمكن فصل البن المطحون عن الماء ب.....
أ- التبخير ب- الترشيح ج- الجذب د- قمع الفصل
- ٤- من أمثلة الكائنات المحللة
أ- الفطريات ب- الأرنب ج- النبات د- الأسد

الدرجة الكلية

مع تمنيات موقع ذاكرولى التعليمي لكل الطلاب بالنجاح والتوفيق